

確認プリント解答【中学校1年生】関数

①	(1) ①面積 ②縦の長さ	(2) ①料金 ②重量
---	---------------	-------------

②	(1) オ	(2) エ
---	-------	-------

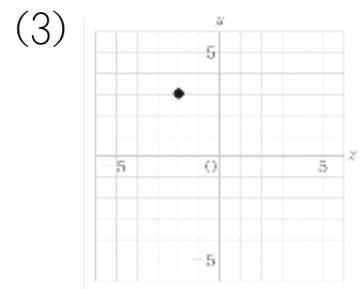
③	(1) ア	(2) ア
---	-------	-------

④	イ
---	---

⑤	エ
---	---

⑥	(1) $y=3x$	(2) ア	(3) $y=12$	(4) 6
---	------------	-------	------------	-------


⑦	(1) $P(-2, 3)$	(2) 6
---	----------------	-------



⑧	(1) -15	(2) 36	(3) $y = -\frac{6}{x}$
---	---------	--------	------------------------

⑨	(1) $y = -2x$
	(2)

埼玉県学力・学習状況調査



コバトン

⑩ (1) $1 \leq y \leq 3$ (2) $1 \leq y \leq 2$

⑪ ウ

⑫ ア

⑬ ア


⑭ ウ

⑮ $y = \frac{12}{x}$

⑯ ① 影の長さ ② 経過した時間

⑰ (1) C
(2)
(解答例)
原点Oを通る直線のグラフをかき,
 $y = 120$ のときのx座標を読む。

埼玉県学力・学習状況調査



コバトン